

PROFESSOR EDUCAÇÃO BÁSICA II- GEOGRAFIA

PORTUGUES (10 QUESTÕES)

Leia atentamente a canção a seguir, de Chico Buarque, músico e compositor brasileiro, para responder às questões de **1 a 3**.

Essa pequena

Meu tempo é curto, o tempo dela sobra
Meu cabelo é cinza, o dela é cor de abóbora
Temo que não dure muito a nossa novela, mas
Eu sou tão feliz com ela

Meu dia voa e ela não acorda
Vou até a esquina, ela quer ir para a Flórida
Acho que nem sei direito o que é que ela fala, mas
Não canso de contemplá-la

Feito avarento, conto os meus minutos
Cada segundo que se esvai
Cuidando dela, que anda noutro mundo
Ela que esbanja suas horas ao vento, ai

Às vezes ela pinta a boca e sai
Fique à vontade, eu digo, *take your time*¹
Sinto que ainda vou penar com essa pequena, mas
O *blues* já valeu a pena

CHICO BUARQUE. Disponível em: www.chicobuarque.com.br. Acesso em: 06 ago. 2017

¹ *Take your time*: Expressão em inglês que significa “faça com calma”; “faça no seu ritmo, no seu tempo”.

01. Leia atentamente as afirmações a seguir:

- I – Ao longo de toda a canção, o eu-lírico apresenta as oposições entre ele e sua amada.
- II – Em todas as estrofes, há referências ao tempo.
- III– Não existe diferença de ritmo entre o eu-lírico e sua amante: ambos acordam cedo e possuem rotinas semelhantes.

É (São) correta(s) a(s) afirmação(ões):

- a. Apenas II.
- b. I e III.
- c. I e II.

d. Todas.

02. Leia atentamente as afirmações a seguir:

I – O eu-lírico acredita que seu relacionamento durará muito tempo.

II – O eu-lírico não consegue compreender tudo que sua amante pensa e sente.

III – A canção é escrita em linguagem coloquial.

É (São) INCORRETAS(s) a(s) afirmação(ões):

a. II e III.

b. I.

c. I e III.

d. Apenas III.

03. Assinale a alternativa CORRETA:

a. Na linha 9, a palavra “avarento” pode ser substituída, sem prejuízo de significado, por “mesquinho”.

b. A figura de linguagem presente no verso “Meu tempo é curto, o tempo dela sobra” é “paradoxo”.

c. O eu-lírico acredita que sofrerá nesse relacionamento e, por isso, não consegue se apaixonar completamente pela mulher.

d. A palavra “contemplar”, presente na linha 8, não possui nenhuma conotação afetiva; significa simplesmente observar.

Leia atentamente a tirinha da garotinha Mafalda a seguir para responder às questões **4 e 5**:



04. Leia as afirmações a seguir:

I – O elemento humorístico da tirinha está relacionado ao caráter conotativo e denotativo do emprego da frase “abrir a boca para não dizer nada”.

II – Felipe, no primeiro quadrinho, demonstra entusiasmo com a história contada por Mafalda.

III – Mafalda acaba por estimular Felipe a conhecer um consultório de dentista.

É (São) CORRETA(s) a(s) afirmativa(s):

a. Apenas I.

b. I e III.

c. I e II.

d. Apenas II.

05. Assinale a alternativa CORRETA:

- a. O tempo verbal predominante na tinha é o presente do indicativo.
- b. A fala de Mafalda, no primeiro quadrinho, é um exemplo de oração composta, pois apresenta dois verbos.
- c. Na fala de Mafalda, no primeiro quadrinho, há um desvio da norma culta: o adequado seria “[...] como foi ao dentista”. d. Há, na tirinha, dez verbos.

06. Assinale a alternativa cujas palavras estão corretamente flexionadas, segundo o padrão culto da Língua:

- a. Marcelo comprou ternos cinzas e camisas azuis-marinhos para os padrinhos.
- b. André considerou a questão difícilima.
- c. Para pintar os móveis, Amanda comprou tintas amarelos-ouros.
- d. Meu pai ficou felicíssimo com a notícia!

07. Leia as afirmações a seguir:

I – Derivação é um tipo de processo pelo qual se obtém uma palavra nova, chamada de derivada, a partir de uma já existente, chamada de primitiva. II – Parassintética é um dos tipos de composição. Um exemplo é a palavra “empalidecer”.

III – A palavra “choro” é um exemplo de derivação regressiva, processo pelo qual as palavras são formadas a partir da redução da palavra primitiva.

IV – A palavra “planalto” é um exemplo de composição por aglutinação.

É(são) CORRETA(S) a(s) afirmação(ões):

- a. I, III e IV.
- b. II e III.
- c. I e III.
- d. II e IV.

08. Assinale a alternativa CORRETA, segundo o padrão culto de língua:

- a. O cargo está vago, mas não o aspiro.
- b. Esqueci dos problemas quando planejei minha viagem.
- c. Eles obedeceram às regras de trânsito.
- d. O pai perdoou à filha.

09. Assinale a alternativa em que a partícula “que” exerce a mesma função que a presente nesta frase: “Ficou claro que o professor exigia respeito”. a.

O que aconteceu na minha ausência?

- b. Os estudantes que desenvolveram novos projetos apresentaram as melhores notas.
- c. Tanto pediu que foi atendido.
- d. Espero que você não volte.

10. Assinale a alternativa CORRETA, segundo o padrão culto da Língua Portuguesa:

- a. Por favor, escolha seu acento, o ônibus partirá em dez minutos.
- b. Tenho um grande apressado pelos meus amigos.
- c. Quando pequeno, meu avô brincava de pião.
- d. O prazo espirou ontem.

LEGISLAÇÃO (10 QUESTÕES)

11-A Lei de Diretrizes e Bases, no artigo 4º, inciso VII, assegura que a educação escolar pública seja dever do Estado que garantirá:

- a) Oferta de educação escolar para jovens e adultos
- b) Obrigatoriedade de educação para crianças especiais
- c) O aproveitamento e progressão nos estudos para jovens e adultos,
- d) Acompanhamento na educação de jovens e adultos.

12- A Lei de Diretrizes e Bases regulamenta em seu Primeiro artigo:

- a) a educação em geral e a vincula ao mundo do trabalho.
- b) a educação escolar e a vincula ao mundo do trabalho
- c) a educação escolar e não a vincula ao mundo do trabalho.
- d) a educação em geral e não a vincula ao mundo do trabalho.

13- Segundo a LDB no seu artigo 6: É dever dos pais ou responsáveis efetuar a matrícula das crianças na educação básica a partir dos:

- a) 4 (quatro) anos de idade.
- b) 5 (cinco) anos de idade
- c) 6 (seis) anos de idade
- d) 7 (sete) anos de idade

14- O direito ao respeito, previsto no art. 17 do Estatuto da Criança e do Adolescente, assegurado às crianças e adolescentes consiste na:

- a) Inviolabilidade da integridade física, psíquica e moral da criança e do adolescente,
- b) Participação da vida política na forma da lei,
- c) Igualdade de condições para acesso e permanência na escola,
- d) Participação na vida familiar e comunitária sem discriminação.

15- Complete de acordo com o Estatuto da Criança e do Adolescente:

Toda criança ou adolescente que estiver inserido em programa de acolhimento familiar ou institucional terá sua situação reavaliada, no máximo, a cada _____ devendo a autoridade judiciária competente, com base em relatório elaborado por equipe Inter profissional ou multidisciplinar, decidir de forma fundamentada pela possibilidade de reintegração familiar ou colocação em família substituta, em quaisquer das modalidades previstas no art. 28 desta Lei.

- a) 02 (dois meses)
- b) 03 (três meses)
- c) 06 (seis) meses
- d) 12 (doze meses)

16- Segundo o Estatuto da Criança e do Adolescente: O direito à liberdade compreende os seguintes aspectos, com exceção:

- a) Ir vir e estar nos logradouros públicos e espaços comunitários,
- b) Crença e culto religioso,
- c) Participar da vida política, na forma da lei,
- d) buscar refúgio, auxílio e orientação.

17- Princípios que completam o enunciado a seguir são, EXCETO:

Segundo a Resolução 4, de 2010, Art. 4º As bases que dão sustentação ao projeto nacional de educação responsabilizam o poder público, a família, a sociedade e a escola pela garantia a todos os educandos de um ensino ministrado de acordo com os princípios

- a) Igualdade de condições para o acesso, inclusão, permanência e sucesso na escola,
- b) Singularidade de ideias e de concepções pedagógicas,
- c) Coexistência de instituições públicas e privadas de ensino,
- d) Valorização do profissional da educação escolar,

18- A Educação em Direitos Humanos, com a finalidade de promover a educação para a mudança e a transformação social, fundamenta-se nos seguintes princípios:

- a) Dignidade humana, igualdade de direitos, reconhecimento e valorização das diferenças e das diversidades.
- b) Laicidade do Estado, democracia na educação.
- c) Transversalidade, vivência e globalidade, sustentabilidade socioambiental
- d) Todas as alternativas estão corretas.

19- Complete de acordo com o Decreto 6253 de 13 de novembro de 2017 Pelo menos _____ dos recursos anuais totais dos Fundos serão destinados ao pagamento da remuneração dos profissionais do magistério da educação básica em efetivo exercício na rede pública

- a) 60% por cento
- b) 15% por cento
- c) 75% por cento
- d) 80% por cento

20- O Estatuto da Criança e do Adolescente, no seu artigo 56 – determina que os dirigentes de estabelecimento de ensino fundamental comunicarão ao Conselho Tutelar os casos de: I) Maus tratos envolvendo seus alunos.

- II) Reiteração de faltas injustificadas e de evasão escolar, esgotados os recursos escolares.
- III) Uso de drogas ilícitas pelo aluno.
- IV) Elevados níveis de repetência.

São corretas:

- a) I, II e III

- b) II e III
- c) I, II e IV
- d) I, II, III e IV

CONHECIMENTOS GERAIS (10 QUESTÕES)

21. Na Venezuela, desde o dia 01 de abril de 2017, o presidente _____ enfrenta uma onda de protestos contra e a favor de seu governo. Nas ruas, manifestantes opositores pedem a saída do presidente e reivindicam a realização de novas eleições, acusando o governo de agravar a crise econômica, política e social. Já o governo continua culpando a oposição por realizar atos de terrorismo e protestos violentos para dividir e desestabilizar o país. Assinale a alternativa que completa corretamente a lacuna: a) Nicolás Maduro
b) Hugo Chávez
c) Fidel Castro
d) Donald Trump

22- O presidente dos Estados Unidos, Donald Trump, anunciou a retirada do país de um tratado contra o aquecimento global firmado por 195 países em dezembro de 2015, chamado: a) Acordo do Canadá
b) Acordo de Paris
c) Acordo de Amsterdã
d) Acordo da China

23- O gentílico de São José do Barreiro é:

- a) Barreirense
- b) Barrense
- c) São-joseense
- d) Joseense

24- No segundo final de semana no mês de janeiro São Jose do Barreiro festeja a micareta que é uma festa:

- a) Em homenagem aos Reis Magos que voltaram a terra de origem após o Natal.
- b) Anterior ao carnaval com blocos de rua todos os dias
- c) Comemorativa da passagem da cidade de vila para município.
- d) Escolar para comemorar o início dos anos letivos

25- São José do Barreiro se destaca na:

- a) Pecuária leiteira,
- b) No gado de corte
- c) No turismo
- d) Todas as alternativas estão corretas

26-No dia 07 de novembro de 2017, a Revolução Russa completou:

- a) 150 anos
- b) 100 anos

- c) 50 anos
- d) 79 anos

27-A Fazenda Pau D`Alho foi planejada para:

- a) Plantio de Cana
- b) Servir de hospedagem para os tropeiros
- c) Plantio de Café
- d) Criar gado

28-Estatuto e Plano de Carreira dos Servidores Municipais é considerado:

- a) Decreto
- b) Leis Complementares
- c) Resoluções Legislativas
- d) Projetos de Lei.

29- Impedir a evasão, a destruição e a descaracterização de obras de arte e de outros bens de valor histórico, artístico e cultural e proporcionar os meios de acesso à cultura, à educação e à ciência são competências:

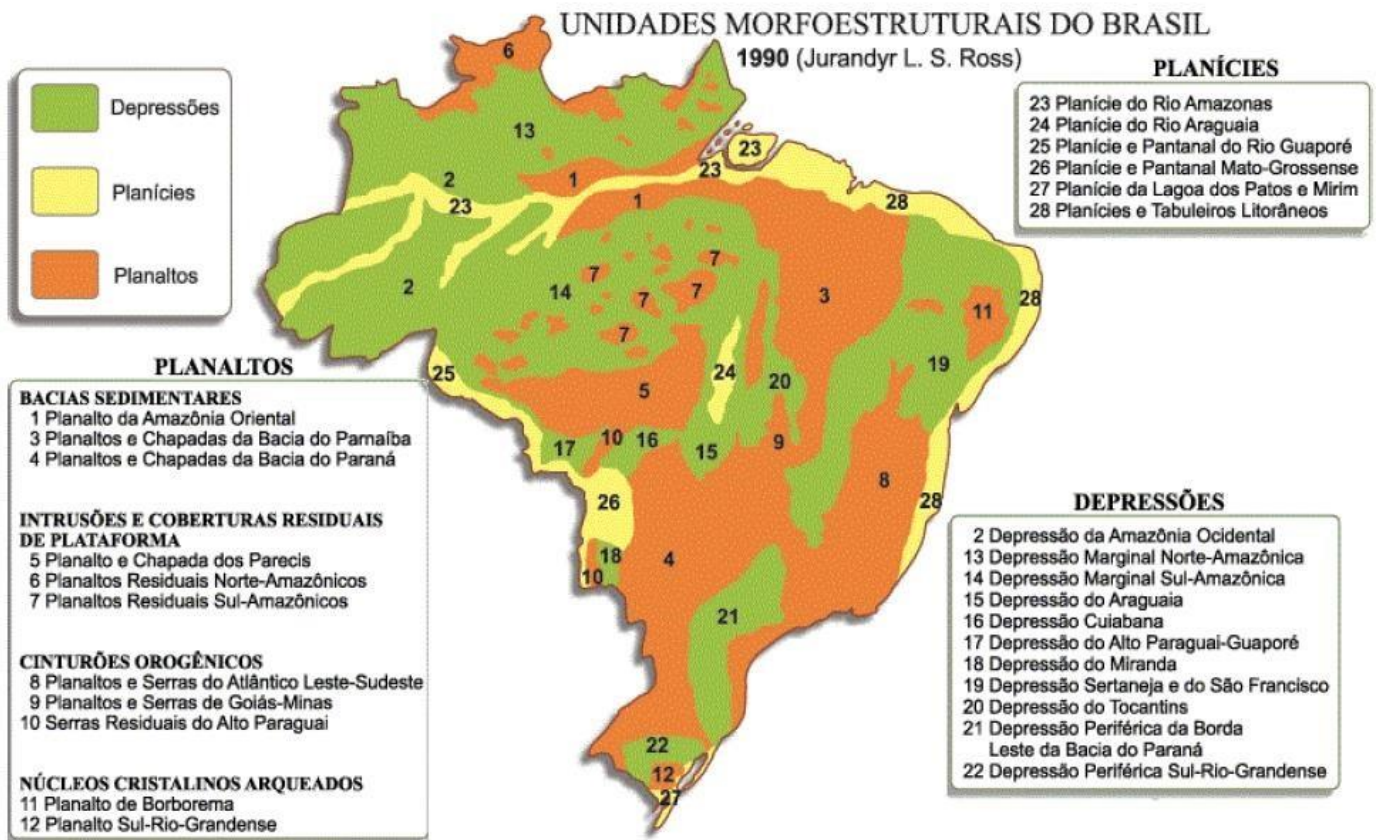
- a) Do município e do Estado
- b) Do Estado e da União
- c) Do Município
- d) Do Município, União e Estado.

30- Promover a educação, cultura e a assistência social são competências:

- a) Município e do Estado
- b) Do Estado e da União
- c) Do Município
- d) Do Município, União e Estado.

QUESTÕES GEOGRAFIA (10 questões)

31- Observe o mapa abaixo que representa os tipos de relevo no Brasil e leias as afirmações a seguir:



- I. A maioria das depressões brasileiras estão concentradas na região norte do país.
- II. Os planaltos, formas de relevo de maior altitude na superfície terrestre (acima de 3.000 metros) estão localizados em todas as regiões do país, principalmente no Sudeste.
- III. As planícies são áreas que apresentam poucos desníveis no terreno e, geralmente, estão associadas a processos de sedimentação.
- IV. As depressões são formas de relevo mais baixas que a dos terrenos ao seu redor sendo classificadas como depressões absolutas ou relativas.

Estão corretas:

- a) I, II e IV
- b) II e III
- c) I e II
- d) I, III e IV

32. Sobre a formação e composição dos combustíveis fósseis assinale a alternativa incorreta:

- a) O carvão mineral, também chamado de carvão natural, foi o primeiro combustível fóssil que se tornou uma fonte de energia mundial. Atualmente, embora ainda seja usado, o carvão não é o combustível fóssil

mais utilizado no mundo por ser altamente poluente e possuir grande teor de enxofre em sua composição.

- b) O gás natural, combustível fóssil não renovável que pode ser encontrado em jazidas e depósitos subterrâneos, é formado por uma mistura de hidrocarbonetos, com destaque para o metano (CH₄) e é utilizado para geração de calor e energia em indústrias.
- c) O carvão mineral é formado pela fossilização de animais, que perde água, dióxido de carbono e metano com o passar do tempo, o que produz uma mistura de substâncias complexas ricas em carbono.
- d) O petróleo, combustível fóssil mais utilizado para obtenção de energia no mundo, é formado através de uma mistura de hidrocarbonetos. Seus derivados são usados como combustíveis e também como matéria-prima.

33. Leia as afirmações abaixo sobre fatores climáticos:

- I. A latitude é a distância de determinado local até o Equador. Latitudes mais próximas do Equador recebem maiores quantidades de raios solares tendo, conseqüentemente, temperaturas médias maiores.
- II. Quanto maior a altitude mais rarefeito se torna o ar e, com isso, a temperatura tende a ser menor.
- III. A continentalidade e a maritimidade são fenômenos que se referem à maior ou menor proximidade de grandes massas de água, mas que não interferem na variação da umidade e temperatura dos lugares.
- IV. As correntes marítimas são movimentadas pela ação dos ventos e pela rotação da terra. Embora sejam fluxos extensos de águas, as correntes marítimas não têm o poder de interferir na temperatura atmosférica.

Estão **CORRETAS**:

- a) I e II
- b) II e III
- c) I, III e IV
- d) III e IV

34 - Sobre a criação do estado de Israel e seus desdobramentos assinale a alternativa incorreta:

- a) em 1947, um Comitê Especial das Nações Unidas propôs a partilha da Palestina entre árabes e judeus, o que culminou na fundação do Estado de Israel no ano seguinte.
- b) após a separação da Palestina, os judeus ficaram com 14.000km² do território e os árabes, que eram maioria na região, com 11.500km². Já a capital Jerusalém, sagrada para as regiões judaica e islâmica, ficou sob administração da Organização das Nações Unidas (ONU).
- c) O episódio da separação territorial entre árabes e judeus recebeu o nome de “Questão Palestina” e revoltou judeus que se opuseram a partilha, gerando sucessivos conflitos entre os povos.
- d) A separação da Palestina não agradou os povos árabes, o que culminou no primeiro conflito entre as nações, chamado de Primeira Guerra Árabe-Israelense.

35- Leia as afirmações abaixo sobre o processo de urbanização no Brasil:

- I. A partir do final da década de 1930, o país se tornou essencialmente industrializado o que resultou no êxodo rural em todo o território.
- II. A urbanização brasileira não ocorreu de maneira uniforme.
- III. A urbanização no Brasil se deu de forma acelerada, principalmente em regiões onde a industrialização ocorreu de forma intensa, como na região Nordeste.

Estão **INCORRETAS**:

- a) I e II
- b) II e III
- c) I e III
- d) I, II e III

36. Assinale a alternativa que preenche corretamente as lacunas:

_____ são formas com escarpas e todo plano. São constituídas em grande parte por camadas de arenito e em geral situam-se a altitudes acima dos 600 metros.

_____ são formas de relevo com topos arredondados e altitudes entre 300 e 900 metros.

_____ são formadas por cadeias de morros pontiagudos, com altitude que podem 600 a 3.000 metros.

- a) Morros, chapadas e serras
- b) chapadas, morros e serras
- c) Serras, chapadas e morros
- d) Morros, serras e chapadas

37. Sobre o processo de globalização, assinale a alternativa incorreta:

- a) A globalização é um conjunto de transformações econômicas, sociais, culturais e políticas que causaram a ampliação dos fluxos de mercadorias e a integração entre países.
- b) São características da globalização as inovações tecnológicas e a ascensão do modelo econômico capitalista.
- c) O processo de globalização leva riquezas a algumas regiões do mundo, mas explora outras menos desenvolvidas.
- d) A intensificação da globalização ocorreu na segunda metade do século XIX, com os processos de inovações relacionados à III Revolução Industrial e à consolidação do capitalismo como sistema econômico mundial.

38. Assinale a alternativa que preenche corretamente as lacunas abaixo:

_____ um sistema agrícola baseado na monocultura para exportação que chegou ao Brasil durante o período colonial.

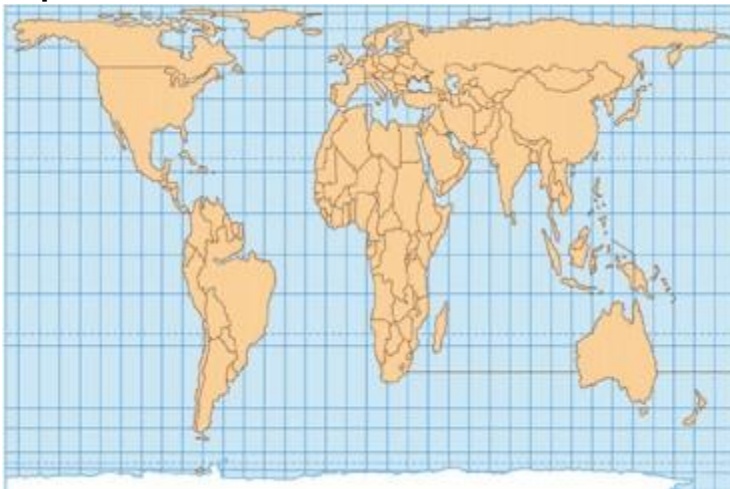
_____ prática agrícola predominantemente encontrada nos países do sudeste Asiático. Entre suas características estão: a utilização de grandes quantidades de mão de obra, baixo nível tecnológico, alta produtividade e conservação do solo.

_____ modelo de produção que acarreta na perda rápida de produtividade do solo e que, muitas vezes, utiliza de técnicas como a coivara para a limpeza da terra.

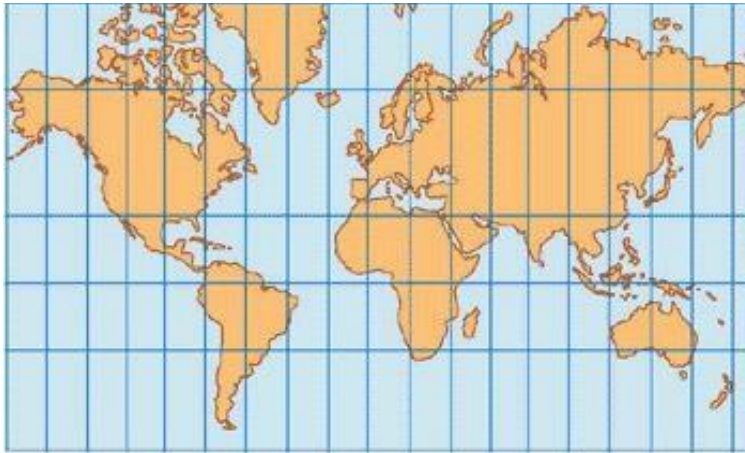
- a) Plantation, agricultura itinerante e agricultura de jardinagem
- b) Agricultura de jardinagem, plantation e agricultura itinerante
- c) Agricultura itinerante, agricultura de jardinagem e plantation
- d) Plantation, agricultura de jardinagem e agricultura itinerante

39. Observe as imagens abaixo e assinale a alternativa correta sobre projeções cartográficas:

Mapa 1



Mapa 2



- a) O mapa 1 representa a projeção de Peters, considerada equivalente, pois mantém a proporção das áreas representadas sem alterar suas formas.
- b) O mapa 2 apresenta os países sem distorções e segue o modelo de Peters.
- c) O mapa 2 segue a projeção de Mercator e, embora receba críticas pela distorção e ampliação dos países do Norte, ainda é modelo mais utilizado atualmente.
- d) O mapa 1 representa a projeção de Mercator, considerada conforme, já que mantém os ângulos idênticos e deforma as áreas.

40 - A “Guerra Fria” foi o período em que o mundo ficou dividido em dois blocos políticos-militares liderados pelos países:

- a) Estados Unidos e União Soviética
- b) Rússia e Inglaterra
- c) Alemanha e União soviética
- d) Estados Unidos e Rússia